

一、選擇題：

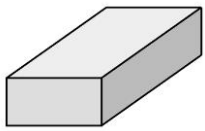
() 1. 學校有 64 雙手套，平分給 8 個人，每人分到幾雙手套？

- ① 7 雙 ② 8 雙 ③ 9 雙

() 2. 老師買了 72 顆糖果，9 顆糖果裝成一包，可以裝成幾包？

- ① 8 包 ② 9 包 ③ 10 包

() 3. 下面的形體有幾個面？

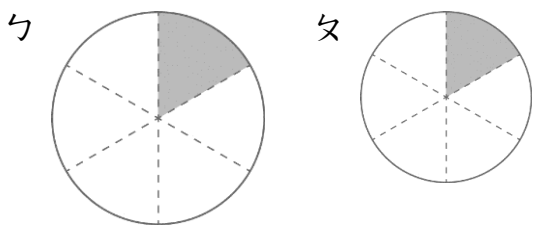


- ① 4 個 ② 6 個 ③ 8 個

() 4. 弟弟到柳丁園摘了 36 個柳丁，4 個柳丁裝成一盒，可以裝成幾盒？

- ① 5 盒 ② 6 盒 ③ 9 盒

() 5. 下面塗色部分都是 $\frac{1}{6}$ 個圓，哪一個 $\frac{1}{6}$ 個圓比較大？



- ① ㄅ ② ㄆ ③ 兩個 $\frac{1}{6}$ 個圓一樣大

() 6. 56 顆草莓平分給 7 個人，每個人可以分到幾顆草莓？

- ① 7 顆 ② 8 顆 ③ 9 顆

二、應用題：

1. 黃彩帶長 8 公分，紅彩帶長是黃彩帶的 4 倍多 5 公分，紅彩帶長幾公分？

2. 1 組文具有 5 枝藍筆和 2 枝鉛筆，花花買了 4 組，共有幾枝筆？

3. 一條緞帶長 40 公分，每 8 公分剪一段，可以剪成幾段？

4. 1 個肉包賣 8 元。云貞買了 7 個，雅文買了 4 個，云貞比雅文多付幾元？

5. 28 瓶飲料平分給 7 人，每人可以分到幾瓶飲料？

6. 45 個小朋友平分成 5 組，每組有幾個小朋友？

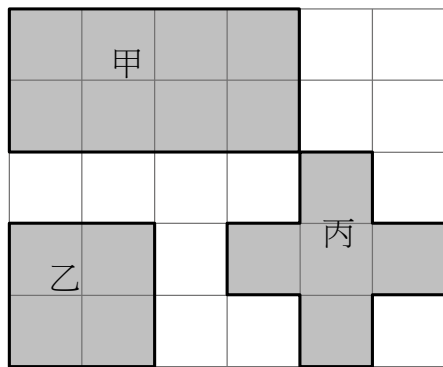
7. 1 張雲彩紙賣 7 元，阿琴買了 5 張，付給老闆 40 元，可找回幾元？

三、看圖做做看：

1. 有 15 個布丁，每 3 個裝 1 盒，可以裝成幾盒？圈圈看。



3. 下面 3 個圖形分別需要幾個小正方形才能排滿？



(1) 甲圖形需要 () 個小正方形。
乙圖形需要 () 個小正方形。
丙圖形需要 () 個小正方形。

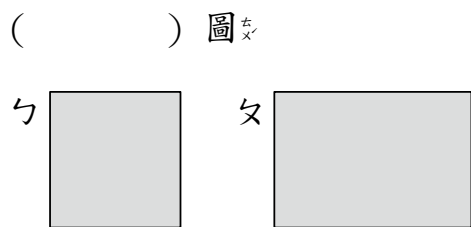
(2) 哪個圖形的面積最小？ () 圖形。

4. 卡卡把下面圖形體的每一個面描下來，看看圖回答問題：



(1) 這是什麼形體？ () 體。
(2) 有幾個正正方形的面？ () 個。

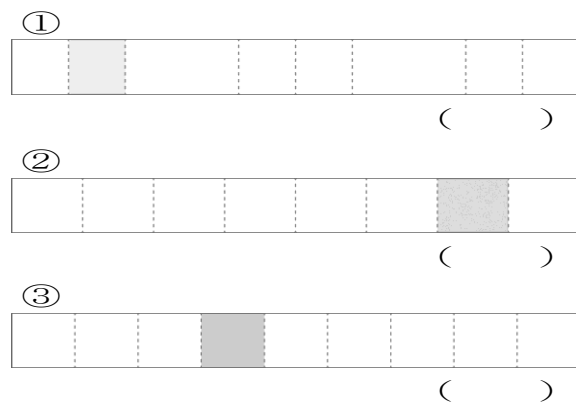
5. 勺圖和勺圖，哪一個面積比較大？



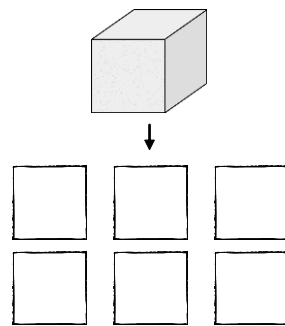
7. 在 () 中填入 > 或 < 。

① $\frac{1}{4}$ () $\frac{1}{6}$ ② $\frac{1}{8}$ () $\frac{1}{6}$

8. 塗色部分是 $\frac{1}{8}$ 的在 () 裡打 \checkmark 。



9.



10.

① 這是什麼形體？ () 體。
② 有幾個正正方形的面？ () 個。
③ 每個面都一樣大嗎？ ()

11.



12.

琪琪的巧克力蛋糕 熊二的巧克力蛋糕

琪琪和熊二分別吃了 $\frac{1}{6}$ 個巧克力蛋糕

力蛋糕，誰吃的巧克力蛋糕比較少？ ()

13. 下面塗色部分各是幾個圓？用分數記記看。

